

## Înmulțirea cu 4

### Fișă de lucru – clasa a II –a


1. Completează în casete rezultatele corecte ale înmulțirilor:

|          |          |          |          |          |          |          |          |          |          |           |
|----------|----------|----------|----------|----------|----------|----------|----------|----------|----------|-----------|
| <b>x</b> | <b>1</b> | <b>2</b> | <b>3</b> | <b>4</b> | <b>5</b> | <b>6</b> | <b>7</b> | <b>8</b> | <b>9</b> | <b>10</b> |
| <b>4</b> |          |          |          |          |          |          |          |          |          |           |

2. Bifează, pe boabele de rouă, numai numerele care exprimă produsul înmulțirii cu 4:

3. Vizionează videoclipul:

[https://www.youtube.com/watch?v=kp7Db\\_gj\\_Xk](https://www.youtube.com/watch?v=kp7Db_gj_Xk)



4. Unește exercițiul cu rezultatul potrivit de pe axa numerelor:

$4 \times 3$

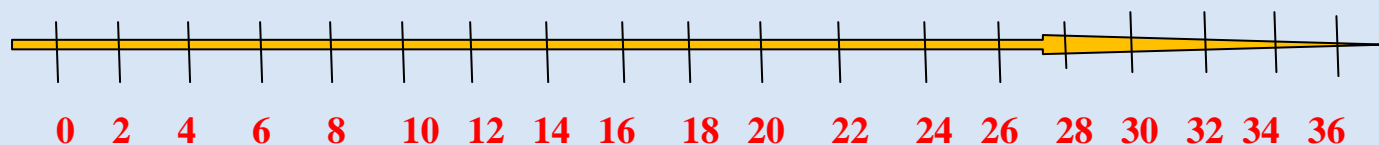
$4 \times 5$

$7 \times 4$

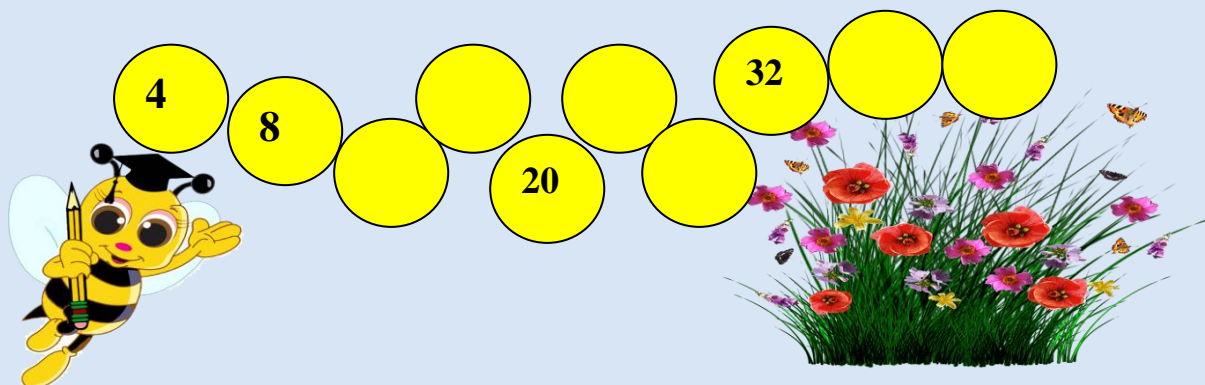
$4 \times 8$

$4 \times 4$

$4 \times 6$



5. Descoperă regula și ajută albiuța să ajungă la flori:



**FELICITĂRI! Te-ai descurcat foarte bine!**